

おためし パズル

「超上級ナンプレ&算数脳パズルに挑戦!」
PUZ146/PUZ147より。


(C) Sekaibunka-sha

ましかく

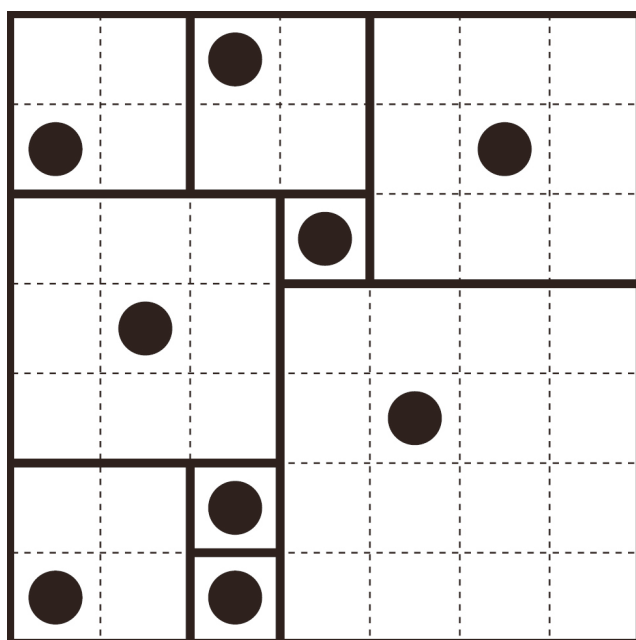
●ルール●

1. 点線にそってパズル面をすべて正方形に分割する。
2. 正方形にはそれぞれ●のマスが1つずつ含まれていないなければならない。

例



答



おためし パズル

「超上級ナンプレ&算数脳パズルに挑戦!」
PUZ146/PUZ147より。


(C) Sekaibunka-sha

ましかく


●ルール●

1. 点線にそってパズル面をすべて正方形に分割する。
2. 正方形にはそれぞれ●のマスが1つつ含まれていなければならない。

1



2



おためし パズル


「超上級ナンプレ&算数脳パズルに挑戦!」
PUZ146/PUZ147より。

(C) Sekaibunka-sha

ましかく

解答

1



2

