

おためし パズル

「超上級ナンプレ&算数脳パズルに挑戦!」
PUZ149/PUZ150より。

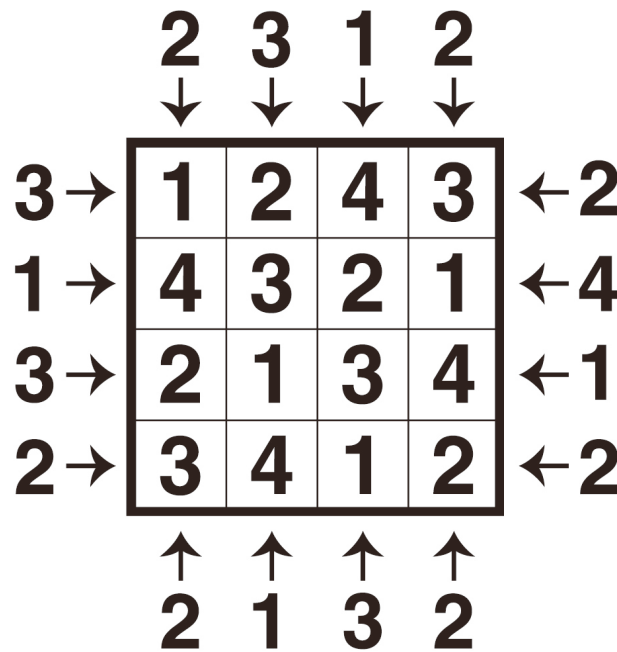
(C) Sekaibunka-sha

ビルディングパズル

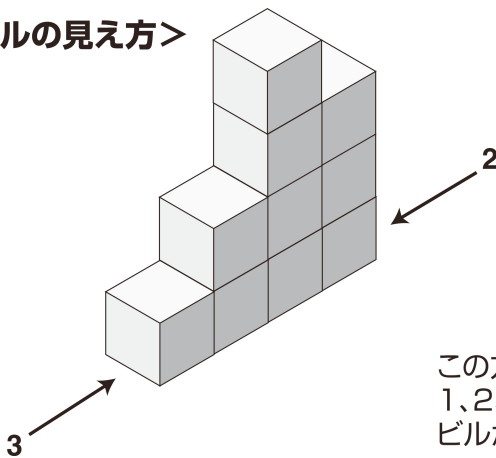
●ルール●

1. 外周の数字は矢印の方向から見えるビルの数、マスに入る数字はビルの高さ(階数)を表す。
2. ビルの階数は、最低1階建て、最高は1列のマスの数と同じ階数。
3. 各列に同じ高さのビルは建てられない。

例



<ビルの見え方>



3 →

1	2	4	3
---	---	---	---

 ← 2

この方向からは、
1、2、4階建ての3つの
ビルが見える

この方向からは、
3、4階建ての2つのビル
が見える

おためし パズル

「超上級ナンプレ&算数脳パズルに挑戦!」
PUZ149/PUZ150より。

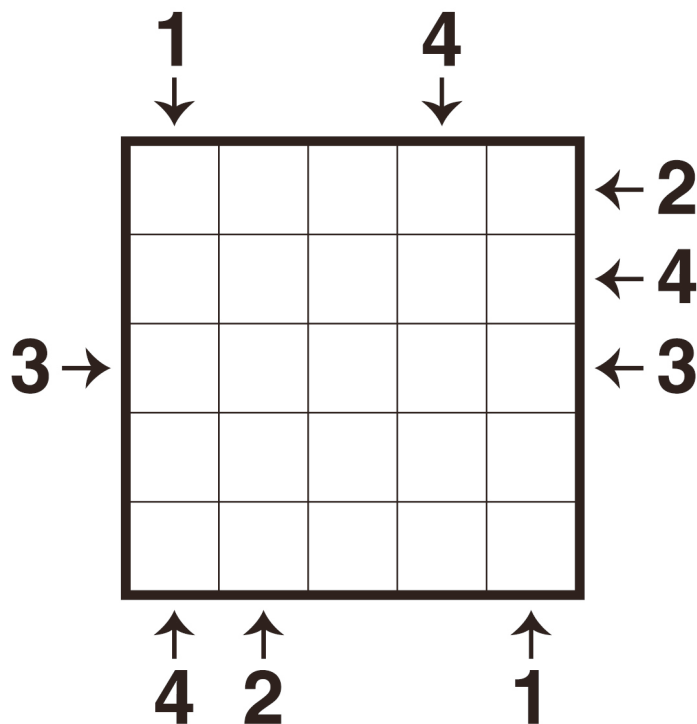
(C) Sekaibunka-sha

ビルディングパズル

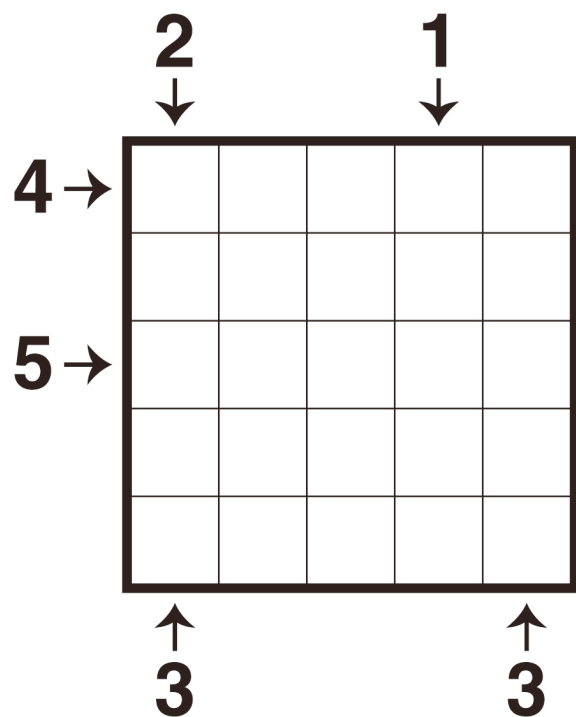
●ルール●

1. 外周の数字は矢印の方向から見えるビルの数、マスに入る数字はビルの高さ(階数)を表す。
2. ビルの階数は、最低1階建て、最高は1列のマスの数と同じ階数。
3. 各列に同じ高さのビルは建てられない。

1



2



おためし パズル

「超上級ナンプレ&算数脳パズルに挑戦!」
PUZ149/PUZ150より。

(C) Sekaibunka-sha

ビルディングパズル 解答

1

	1		4			
	↓		↓			
	5	3	2	1	4	← 2
	4	5	3	2	1	← 4
3 →	1	2	5	4	3	← 3
	3	1	4	5	2	
	2	4	1	3	5	
	↑	↑			↑	
	4	2			1	

2

	2		1			
	↓		↓			
4 →	2	3	4	5	1	
	5	1	2	3	4	
5 →	1	2	3	4	5	
	4	5	1	2	3	
	3	4	5	1	2	
	↑				↑	
	3				3	

出題：津内口真之